









Conseils pour jouer

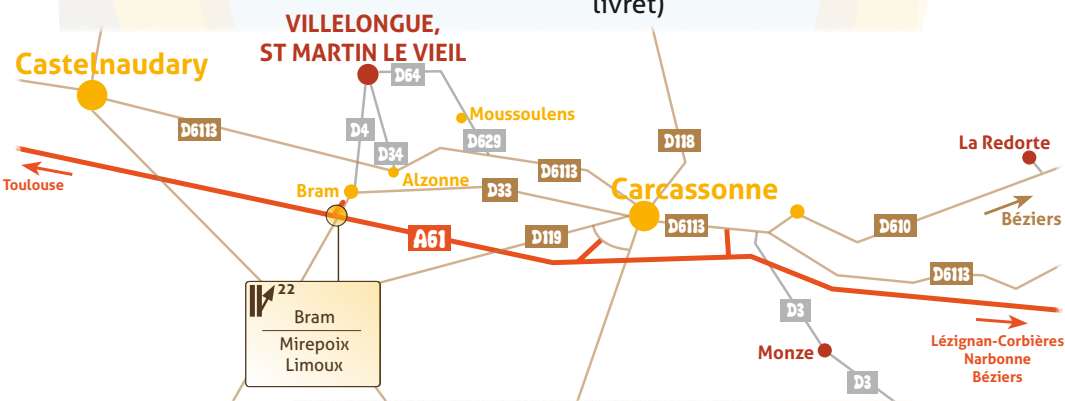
-  Adultes
-  3h environ
-  31 questions, 69 points
-  6 km

-  Un ou plusieurs élément(s) autour de vous pourront vous aider à répondre
-  Nombre de points que vous rapporte une bonne réponse à la question

Infos pratiques

DÉPART : Abbaye de Villelongue
ARRIVÉE : sur le chemin du retour entre S^t Martin et l'abbaye.

-  Sans horaire et gratuit : lieu ouvert au public
-  Parking : derrière l'Abbaye de Villelongue (voir plan au milieu du livret)



Vous en voulez encore ?

Tous nos parcours :



Généré sur QRcode-pro.com

- Cherbourg
- Le Havre
- Le Mans
- Nantes
- Nevers
- Saint-Malo
- Senlis
- Vincennes

- Pays de Carcassonne :**
- Abbaye de Villelongue & S^t Martin (numérique)
 - Monze
 - La Redorte

- Paris :**
- Louvre/Tuileries
 - Jardins du Trocadéro
 - Jardin du Luxembourg

Et d'autres encore...

-  Application mobile
-  Pochette de jeu
-  Imprimable
-  Tout public
-  Match enfants/parents
-  Junior

ISBN 979-10-92394-078



Dépôt légal avril 2014

1 à 4 joueurs



Rallye-découverte de l'abbaye de Villelongue et S^t Martin le Vieil

(En Pays de Carcassonne)



« Du cadre verdoyant de l'abbaye au village perché sur son rocher, vous traverserez un plateau boisé. Outre ses tours médiévales et sa belle église, S^t Martin vous livrera quelques-uns de ses secrets bien gardés. »

www.randojeu.com

Petite astuce : consultez la dernière page, quelques informations vous seront utiles pour votre parcours !

Question 1



Remplacez les mots suivants dans le texte :

Albigeois **Saint Bernard** **1170** **cistercienne** **1791** **Simon de Montfort**

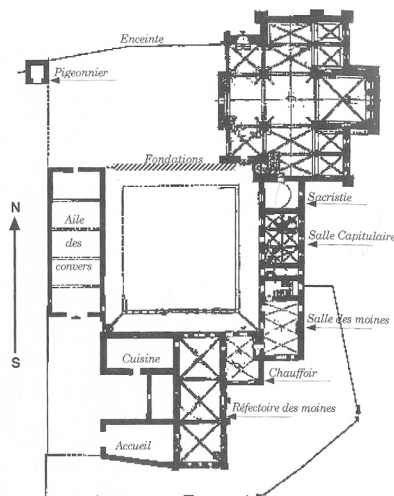
La construction de l'Abbaye _____ Sainte-Marie de Villelongue commence en _____. Aux XIII^e et XIV^e siècles, croisées d'ogive, rosace, chapiteaux sculptés viennent enrichir l'ensemble, dérogeant ainsi à la règle de _____. À cette époque, l'abbaye doit sa puissance et sa richesse à l'aide qu'apportèrent les abbés à _____ dans la « croisade contre les _____ » ; elle reçoit ainsi en récompense le château, le village de Saint-Martin-le-Vieil et la moitié de la dîme, puis ce sera le déclin. Elle sera vendue comme bien national en _____.

Question 2



Sur le plan de l'abbaye ci-dessous, situez :

- 1 - l'entrée où vous êtes,
- 2 - le cloître,
- 3 - l'église ou abbatale,
- 4 - le jardin.



Plan de l'abbaye de Villelongue

Bravo ! Vous avez parcouru 6 km !

**Mais combien avez-vous cumulé de points ?
Pour cela, allez chercher les réponses à la boutique de
l'Abbaye...**

Attention à la descente un peu raide vers l'Abbaye !

Question 31



Chemin faisant, parcourez ce poème de Marie Racaud (1971) qui traduit tout l'attachement des habitants à leur village. Mais il vous faudra trouver les mots qui riment !!

"C'est un village ancien, perché sur les r

Et buvant le soleil au milieu des bosquets.

Les oiseaux familiers, à la belle saison,

L'environnement du bruit de leurs claires ch

Un vieux château désert apparaît au passage,

Dressant sa haute tour au-dessus du v

La ruine abrita jadis, bien des secrets ;

Mais qui saura jamais l'exacte v

[...]

On aime Saint-Martin, on aime ce v

Cachant sa vie secrète au milieu du feuillage.

Puisse-t-il, bien longtemps, vivre encor oublié

Au milieu de l'enfer de ce monde a

Difficile ? Peut-être trouverez-vous certains indices sur le parcours ?




Question 3

Trouvez le point de vue qui vous permettra d'admirer la belle fenêtre gothique de l'abbatiale. Et retrouvez-la parmi ces 3 photos :



A



B



C



Question 4

Le site de l'abbaye – choisi par les moines pour ses conditions naturelles favorables – est baigné par deux cours d'eau : la Vernassonne et son affluent, le ruisseau du Rossignol. Repérez-vous et répondez par vrai ou faux :

a) La Vernassonne coule du Nord au Sud.

VRAI FAUX

b) Le ruisseau du Rossignol coule d'Ouest en Est.

VRAI FAUX

c) La confluence des 2 cours d'eau se fait en amont du pont.

VRAI FAUX

Question 5

Vous êtes sur le plateau. Quel est le dénivelé avec l'abbaye ?

- a) 50 m
- b) 70 m
- c) 110 m

Question 6

Au Moyen Âge, se répand ici un mouvement chrétien venu des Pays de l'Est : le catharisme. Les cathares séparent le monde en deux : le bien, essentiellement spirituel, et le mal, ce qui est matériel. Ils prônent la pauvreté, le végétarisme, le refus de la violence. Le corps n'est que l'enveloppe de l'âme. La population apprécie leur mode de vie éloigné de certaines pratiques de l'église catholique qu'ils réprochent. Le pape Innocent III lance la croisade contre l'hérésie.

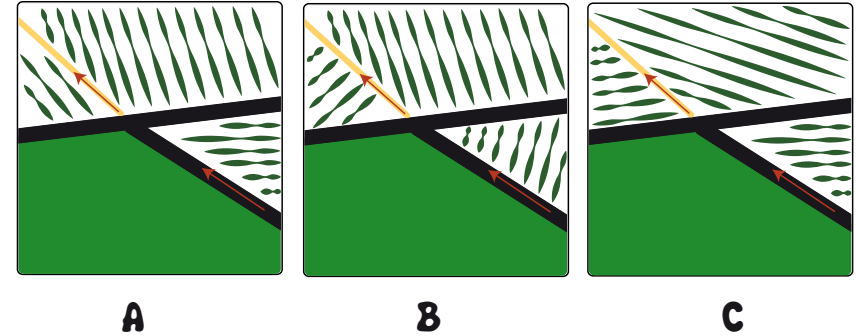
Sur un pierrier, vous trouverez les dates des 3 événements majeurs listés ci-dessous dans l'ordre chronologique.

- a) Le massacre de Béziers et la prise de Carcassonne : _____
- b) La reddition de Montségur où 225 cathares sont brûlés vifs : _____
- c) La mort sur le bûcher du dernier cathare connu, Guilhem Bélibaste : _____



Question 30

Parmi les 3 dessins ci-dessous, quel est celui qui représente l'implantation des vignes (vignoble) que vous traversez ?



Question 28

Trouvez un petit panneau vert marqué « Poste 19 » sur un arbre. Que marque-t-il ?

- a) Une parcelle cadastrale
- b) Une borne kilométrique
- c) Un poste de chasse

Question 29

Vous suivez le chemin que les villageois de St Martin empruntaient pour aller cultiver leurs jardins. Pour en savoir plus sur l'agriculture, replacez les mots suivants à leur place dans le texte :

les pommes de terre

les melons

les fèves

la vigne

les petits pois

La culture de _____ est mentionnée dès 1157. En 1811, 112 ha y étaient consacrés, il ne reste plus que 30 ha aujourd'hui. Au Moyen Âge, _____ constituaient l'alimentation de base des habitants de la région. Ce n'est qu'après la révolution qu'apparaissent ici _____, _____ et _____.



Question 7

Vous passez non loin d'une bâtisse, lieu-dit "Portailli", "Porti" ou "Portoy". Là, se trouvaient jusqu'aux années 1960 les *pacages d'hiver des Andorrans*. Les Andorrans venaient ici :

- a) traiter la laine collectée au printemps précédent et la mettre en paquets.
- b) mettre en bouteille le vin de l'année.
- c) faire paître leurs troupeaux.



Question 8

Vous passez sous une ligne électrique à haute tension. Répondez par vrai ou faux :

a) À cet endroit ne passe que le chemin "Promenade & Randonnée", balisé en jaune, que vous suivez.

VRAI FAUX

b) À cet endroit passent le chemin "Promenade & Randonnée", balisé en jaune, que vous suivez, ainsi qu'un chemin "Grande Randonnée", balisé blanc & rouge.

VRAI FAUX

c) À cet endroit passent le chemin "Promenade & Randonnée", balisé en jaune, que vous suivez, ainsi qu'un chemin "Grande Randonnée de Pays", balisé jaune & rouge.

VRAI FAUX

Question 9



Quel panorama ! Devant vous, le village de Raissac-sur-Lampy.
Où la partie ancienne du village se situe-t-elle ?

- a) À l'Est.
- b) À l'Ouest.

Question 10

En balayant la région, le vent apporte un air très pur et un sujet inépuisable de discussions. Le vent, que dis-je ?!... il faut dire **les vents**.
Reliez chaque vent à ses caractéristiques.

- | | |
|-----------------|--|
| Le cers ● | ● Vent d'Est qui apporte pluie, humidité, moiteur, il rend chacun irritable. |
| L'autant ● | ● Vent venant de la Méditerranée, du latin <i>Altanus</i> : haute mer, le plus violent. |
| Le marin ● | ● Venant du Nord, elle s'accompagne d'une baisse de température et souffle par période de 3, 6 ou 9 jours. |
| La tramontane ● | ● Vient d'Ouest ou Nord-Ouest, toujours sec, il amène le beau temps. |



Question 27

L'adduction d'eau à Saint-Martin-le-Vieil date de 1896, cela mérite bien une plaque ! Mais voilà, quelles sont les 2 erreurs commises par le maire dont une fut corrigée par la suite.

Sélectionnez l'affirmation vraie parmi les 3 suivantes. Il avait fait inscrire :

- a)
Erreur 1 : le nom de son ami M. de Rolland avant celui de l'adjoint
Erreur 2 : les noms des conseillers municipaux sans leurs prénoms
- b)
Erreur 1 : le nom de l'adjoint avant le sien
Erreur 2 : les noms des conseillers municipaux sans leurs prénoms
- c)
Erreur 1 : le nom de son ami M. de Rolland avant celui de l'adjoint
Erreur 2 : les noms des opposants à sa politique en dernier au lieu de l'ordre alphabétique qui était d'usage



Question 25



Sur l'ancienne aire de battage du blé se trouve un jardin d'une forme qui fait référence à un motif bien connu, tant au Moyen Âge que maintenant.

Quel est ce motif ?

« »



Question 11

À proximité se trouvent deux très importants sites de la Défense nationale. Répondez par vrai ou faux :

- a) Il s'agit d'un gigantesque abri utilisable par la population en cas d'attaque nucléaire. **VRAI FAUX**
- b) Deux antennes paraboliques blanches sont partiellement visibles de ce point de vue. **VRAI FAUX**
- c) Ces sites dépendent de la Marine nationale. **VRAI FAUX**
- d) Le centre de télécommunications couvre la quasi-totalité du globe. **VRAI FAUX**

Question 26



Jusqu'en 1919, c'est devant l'oratoire, alors protégé par une grille, que le gros bétail – apprêté pour l'occasion – était béni le 16 août, jour de la Saint Roch.

De quelle année date cet oratoire ?



Question 12

Reliez les événements majeurs de l'histoire de Saint-Martin-le-Vieil à la bonne date :

- | | |
|-------------|--|
| Vers 1210 ● | ● Le village est assiégé et enlevé par les Coreligionnaires (calvinistes). |
| 1355 ● | ● Le village fut donné à l'abbaye. |
| 1578 ● | ● Pauvre hère, le dernier Seigneur de Saint-Martin-le-Vieil meurt noyé à 90 ans. |
| 1793 ● | ● Le Prince Noir, pendant 15 jours, met le pays à feu et à sang. |

Question 13



Admirez l'église de Saint-Martin-le-Vieil. Parmi ces 3 photos, choisissez la rosace qui lui correspond :



A



B



C

Question 14



Regardez cette photo, que manque-t-il ? Retrouvez l'emplacement de l'élément manquant.



7



Question 23



Sur quel monument trouve-t-on ce motif ?



Question 24



Regardez bien la photo ci-dessous et trouvez la tour qu'elle représente. Quatre erreurs s'y cachent, retrouvez-les.



12

Question 21



La maison de l'Horloge est bien étonnante ! Répondez par vrai ou faux :

- a) Elle est équipée d'une cloche. **VRAI FAUX**
- b) Elle a un cadran solaire. **VRAI FAUX**
- c) Elle a une cave troglodyte. **VRAI FAUX**
- d) Un escalier passe sous la maison. **VRAI FAUX**

Question 22



L'abbé Courrieu nous raconte l'histoire de deux familles qui vivaient ici entre 1820 et 1850. Installez-vous, lisez, écoutez cette histoire, il vous faudra répondre à une question à la fin.

Jean Soubrié, marchand de farine, vivait heureux avec sa femme, ses sept filles et son âne dans une minuscule demeure au pied de la Maison de l'Horloge. Bien que très simple, la vie était joyeuse et la santé bonne, ne leur manquait qu'un garçon. À force de prières, de démarches, l'Assistance Publique leur confia un beau garçon et ils furent comblés. Leur voisin, Antoine Rancoules, cordonnier, vivait ici avec sa femme et ses sept garçons dans une surface toute aussi réduite. Heureux de cette belle famille, ne leur manquait qu'une fille. Ils suivirent l'exemple des Soubrié et obtinrent également de l'Assistance Publique une fille.

À partir de ce moment, combien de personnes et d'animaux vivaient donc ici dans 50 m² ?



Question 15



1 – Au pied du rempart, il y a un joli jardinet, mais sous le rempart qu'y a-t-il ?

2 – À quoi cela servait-il ?

Question 16



À plusieurs reprises, vous rencontrerez un animal qui semble vous montrer le chemin.

De quel animal s'agit-il ?



Question 17



Quelle affirmation est vraie ?
Quand on poste son courrier à Saint-Martin-le-Vieil... :

- a) ... on peut acheter du pain et boire un verre.
- b) ... on peut jouer à la pétanque et faire la causette sur un banc.
- c) ... on peut puiser de l'eau et profiter d'un banc.



Question 19

Vous passez à côté d'une ancienne ligne du réseau des tramways à vapeur. Le « Petit Train » fonctionna de 1905 à 1935. Sachant qu'il circulait à 20 km/heure et effectuait de nombreux arrêts, combien de temps mettait-il au mieux pour couvrir la ligne Bram-S^t Denis longue de 24 km ?

- a) 0H48
- b) 1H34
- c) 2H16

Question 18



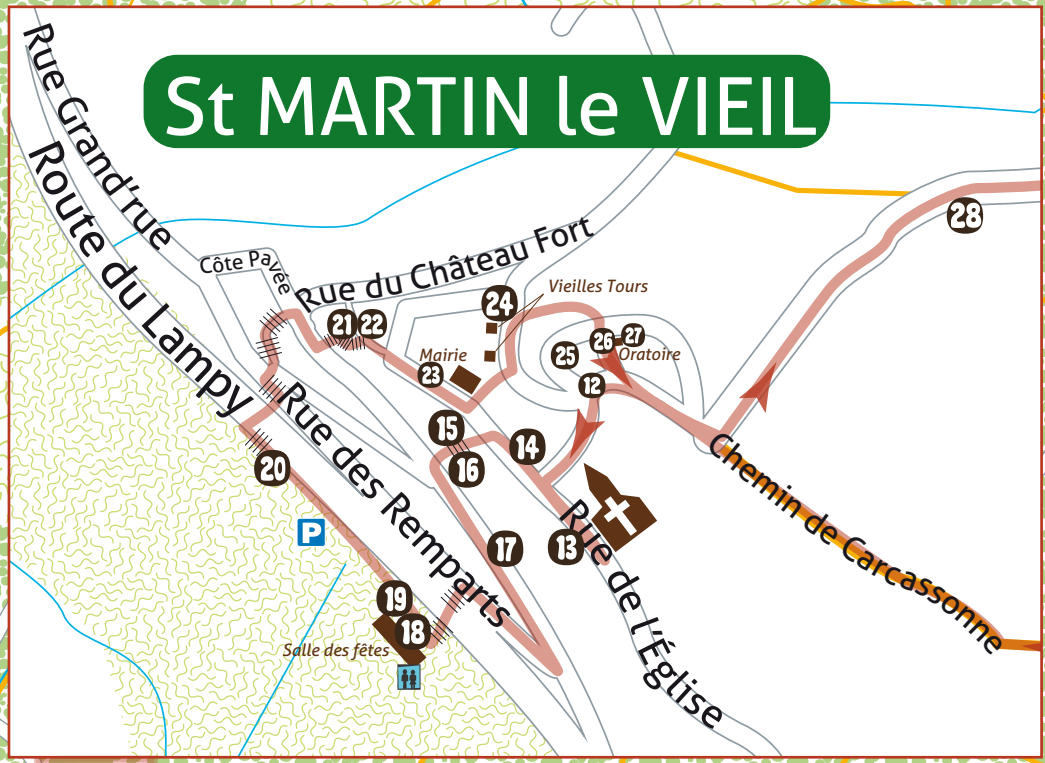
Jusqu'en 1884, la famille Peytavi, en plus de ses revenus de tailleur, disposait d'un bien précieux. Elle demandait une cotisation annuelle de 2 décalitres de grain aux habitants qui souhaitaient en profiter.
Vous allez passer devant ; **de quoi s'agit-il ?**



Question 20

Comment appelle-t-on ici les salles creusées dans la roche que vous avez pu voir sous les remparts ?

St MARTIN le VIEIL



VILLELONGUE



St MARTIN le VIEIL



Chemin de Carcassonne

Au Pech Libou